




49 Nombres décimaux : les centièmes

→ Activité préparatoire 1

Utilise tes règles graduées en unités u (u , demi u , quart de u et huitième de u) pour mesurer chaque segment.

Écris les mesures dans le tableau.



	En u	En $u + \frac{1}{2}$ de u	En $u + \frac{1}{4}$ de u	En $u + \frac{1}{8}$ de u
Longueur du segment AB	entre $1 u$ et $2 u$	entre $1 u$ et $\frac{3}{2}$ de u	$1 u + \frac{1}{4}$ de u
Longueur du segment CD
Longueur du segment EF