

La Renaissance et les arts. Questionnaire.

> Concernant le document n°1.

Quelles ressemblances et différences notes-tu entre ces deux tableaux (décor, personnage, attitude) ?

> Concernant le document n°2.

Quelles ressemblances et quelles différences notes-tu entre ces deux châteaux ? Complète par oui ou non.

| | Moyen Age | Renaissance |
|--|-----------|-------------|
| Château entouré de murailles | | |
| Beaux jardins | | |
| Fossé et pont-levis | | |
| Grandes fenêtres | | |
| Coûts et façades décorées | | |
| Meurtrières et créneaux | | |
| Construit pour la défense contre des ennemis | | |
| Construit pour être beau et confortable | | |
| Fait pour les fêtes | | |
| Fait pour la guerre | | |

> Concernant le document n°3.

Qui est qui ? Retrouve l'identité de ces grands auteurs de la Renaissance.



> Concernant le document n°4.

Donne la définition d'un mécène.

La Renaissance : période d'innovations et de progrès scientifiques. Questionnaire

> Concernant le document n°1.

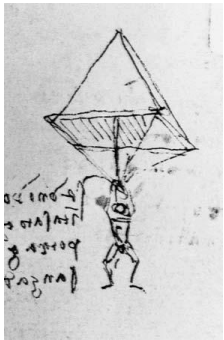
Qu'est ce qui est au centre de l'univers selon Ptolémée ?

Selon Copernic ?

Que met-il en avant ?

> Concernant le document n°2.

Prends le nom des inventions de Léonard de Vinci avec le bon dessin.



Tambour militaire pour la marche



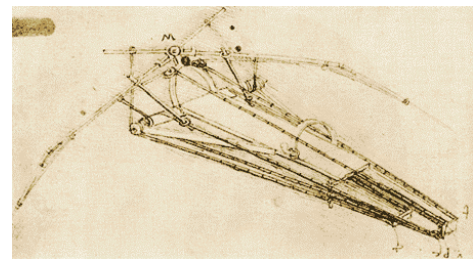
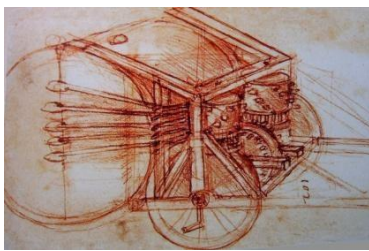
Parachute



Helicoptère

Crank

Machine volante



> Concernant le document n°3.

Complète le texte suivant avec les mots qui manquent.

En, Jean a inventé l'.....

Les composent le texte à l'aide de signes placés dans des cases.

La plaque composée est couverte d'.....

La feuille de papier est ensuite imprimée à l'aide de

La feuille imprimée est finalement examinée par des

Les guerres de religion : sur les traces des catholiques et des protestants.

Questionnaire

> Concernant le document n°1.

Complète le texte : La France est majoritairement Lesules, quelques provinces du sud-ouest sont Les pères du protestantisme en Europe sont et

Observe la gravure suivante :



Que vois-tu au centre de la gravure ?

Le catholique monté sur la balance ne parvient pas à la faire pencher en sa faveur. Cette gravure est-elle en faveur des catholiques ou des protestants ?

> Concernant les documents n°2 et 3..

Henri de Navarre est-il catholique ou protestant ?

Pourquoi doit-il se convertir à la religion catholique ?

Cite un affrontement célèbre entre catholiques et protestants ?

En quelle année a-t-il eu lieu ?

Quel édit met fin aux guerres entre catholiques et protestants en accordant aux protestants le droit de pratiquer leur religion dans certains lieux et à certaines conditions ?

Comment Henri IV meurt-il ?