



# Vers les nombres décimaux :




## Fractions

Sur la figure qui compte 100 cases :

colorie  $\frac{2}{100}$  du carré en rouge + colorie  $\frac{1}{2}$  en vert et  $\frac{1}{10}$  en bleu :



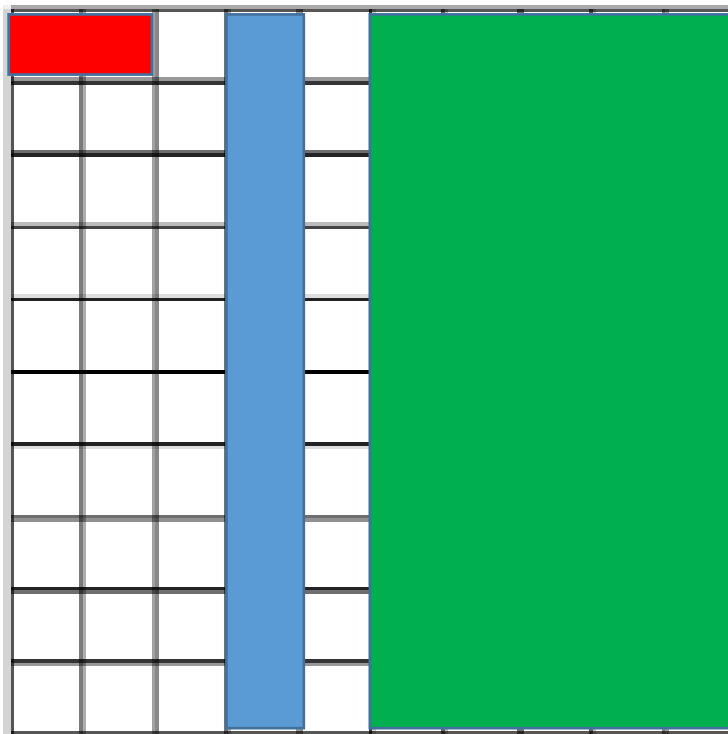


# Fractions

18

Sur la figure qui compte 100 cases :

colorie  $\frac{2}{100}$  du carré en rouge + colorie  $\frac{1}{2}$  en vert et  $\frac{1}{10}$  en bleu :

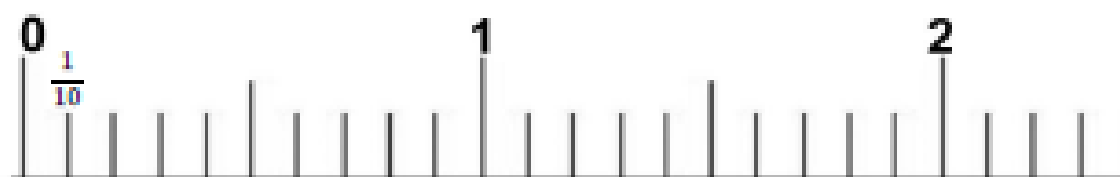


0,01

# Décimaux

Place les fractions décimales sur la droite graduée :

$$\frac{9}{10}; \frac{2}{10}; \frac{19}{10}; \frac{21}{10}$$



+

0,01

# Décimaux

Place les fractions décimales sur la droite graduée :

$$\frac{9}{10} \quad \frac{2}{10} \quad \frac{19}{10} \quad \frac{21}{10}$$

