

QLM_ESPACE – CE2

Matériel : Internet, trousse, cahier de QLM (Espace), crayons feutres.

Semaine	Jeudi
18/06	<p>I- <u>Repérer la France sur différents supports</u></p> <p>1) Ecris sur ton cahier de QLM : I- <i>Repérer la France sur différents supports</i>. Regarde attentivement l'annexe 1 et réponds aux questions sur ton cahier de QLM ESPACE</p> <ul style="list-style-type: none"> - Qu'est ce que cela représente et où as-tu déjà vu ce type de représentation ? - Quels sont les critères qui permettent de reconnaître La France ? <p>2) Regarde attentivement l'annexe 2 et réponds aux questions</p> <ul style="list-style-type: none"> - Retrouve sur cette carte la France. <p>Information : il existe deux types de limites permettant de tracer le contour de la France :</p> <ul style="list-style-type: none"> - les côtes, limites naturelles qui sont en contact avec les zones bleues représentant océans et mers ; - les frontières qui sont en contact avec d'autres couleurs et qui représentent des limites souvent artificielles, parfois naturelles (fleuves, montagnes) avec les pays voisins. <p>3) Sur les annexes 3, 4, 5 et 6 : retrouve la France (en l'entourant ou en coloriant). Colle ces annexes dans ton cahier de QLM.</p>
25/06	<p>II- <u>L'histoire de la représentation de la France</u></p> <p>1) Ecris sur ton cahier de QLM : II- <i>L'histoire de la représentation de la France</i>.</p> <p>2) Regarde attentivement l'annexe 7. Classe les cartes en les découpant et en les numérotant de 1 à 4, de la plus ancienne à la plus récente. (Correction en annexe 8)</p>
2/07	<p>III- <u>De l'école à la Terre</u></p> <p>1) Pour cette séance tu auras besoin d'un ordinateur et d'internet. Choisis le site "Google Earth" https://earth.google.com/web/@0,0,-24018.82718741a,36750128.22569847d,35y,0h,0t,0r/data=KAE Une fois que tu es sur le site, recherche l'adresse de l'école de Commequiers (158 Rue Charles de Gaulle, 85220 Commequiers). Essaie de zoomer de manière à ce que l'école apparaisse distinctement, en grand format sur l'écran. Ensuite trouve l'entrée de l'école et la cour de récréation.</p> <p>2) Ecris maintenant sur l'un des deux sites, le nom de ta commune (Commequiers, ...). A ton avis, quelles sont les frontières (= les limites) de la ville / Où est-ce qu'elles se terminent ?</p> <p>3) Ecris cette fois-ci : La Vendée. Qu'est ce que la Vendée ? A quoi correspond le contour rouge ? Ecris maintenant : Pays de La Loire. Que sont les Pays de La Loire ? A quoi correspond le contour rouge ?</p> <p>4) Ecris le nom d'un des continents de la Terre sur Google Earth (Europe, Asie, Afrique, Amérique, Océanie)</p>

ANNEXE 1

[Carte de France]



Annexe 1 - OLM



ANNEXE 2

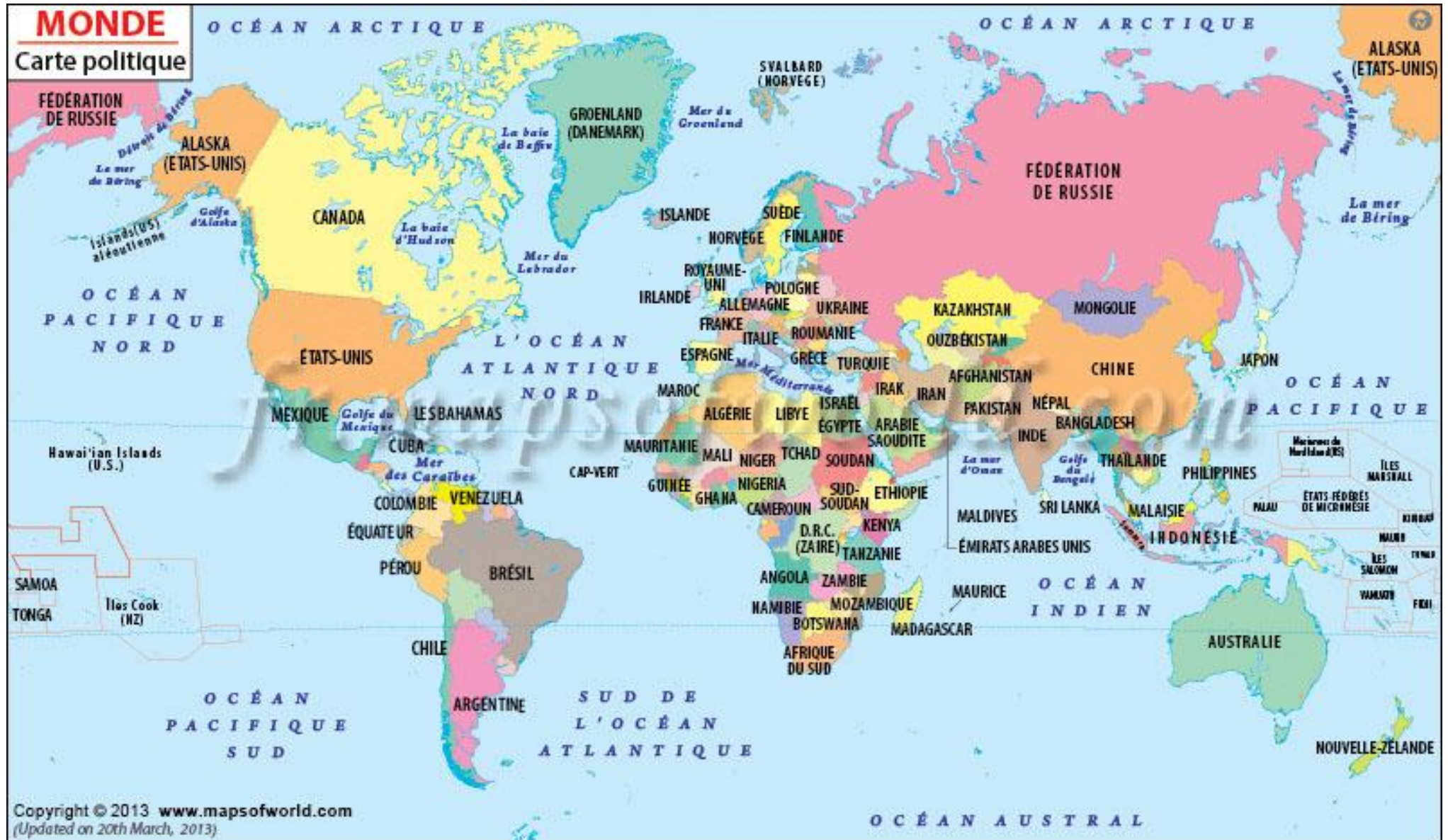
[Carte de l'Europe]



Annexe 2 - OLM



ANNEXE 3 (carte du monde)



ANNEXE 4 (image satellite)



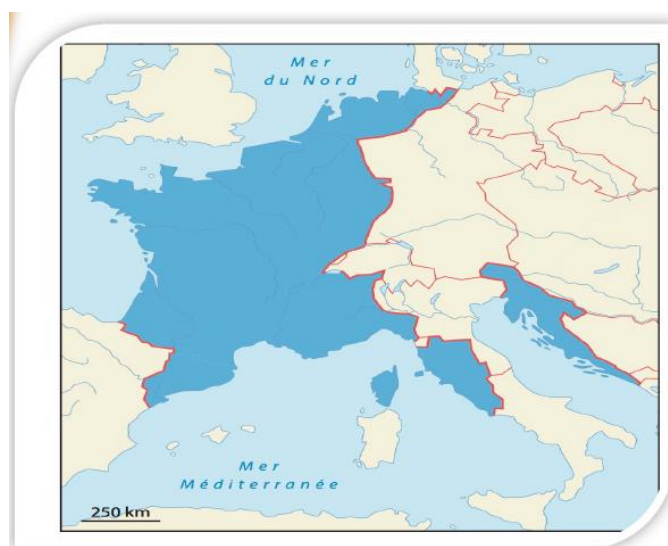
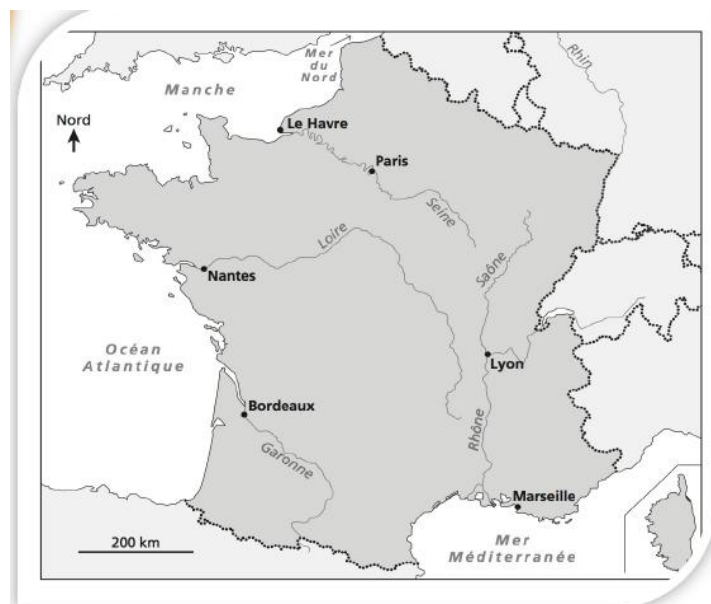
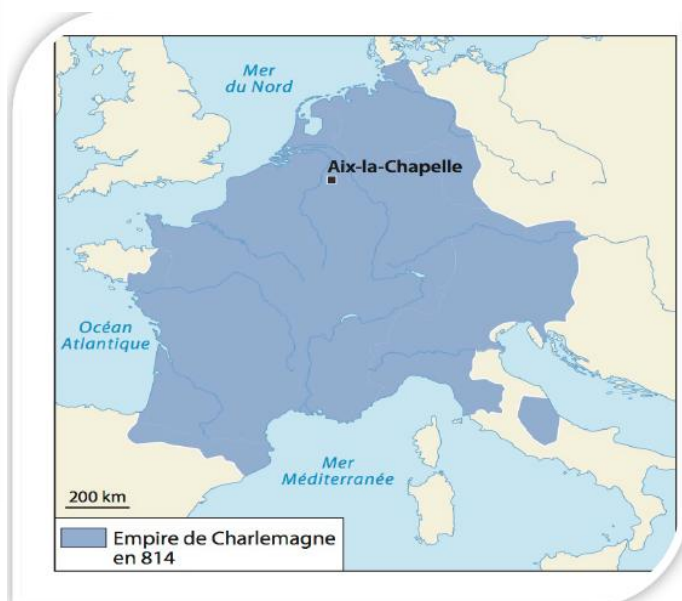
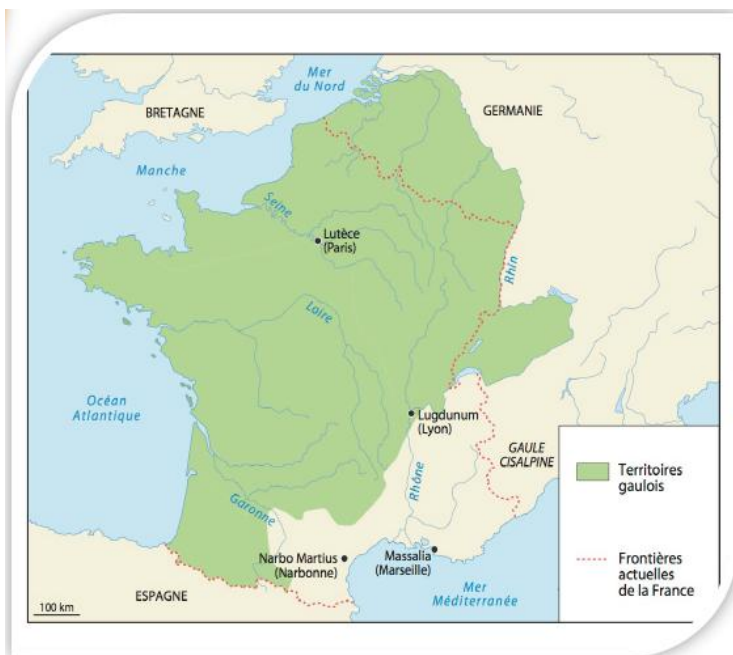
ANNEXE 5 (mappemonde)



ANNEXE 6

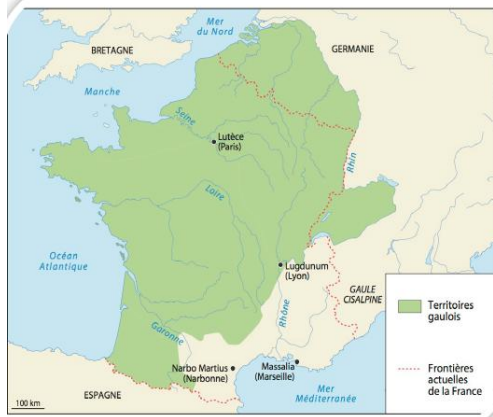


ANNEXE 7

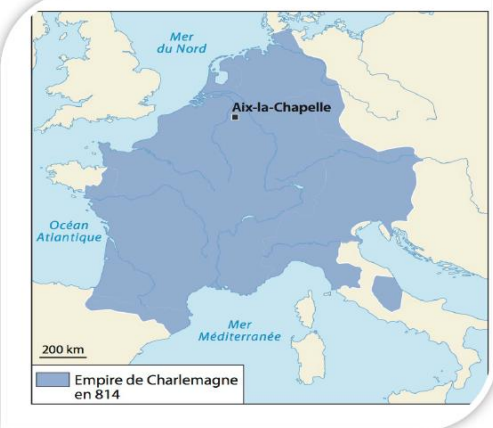


ANNEXE 8

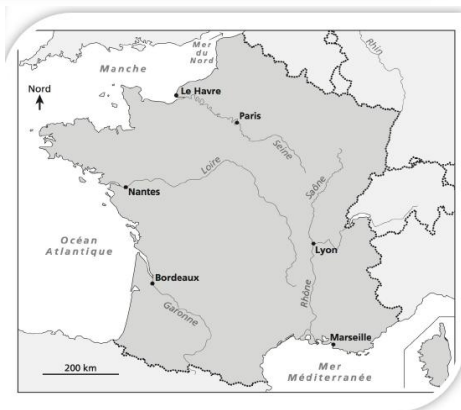
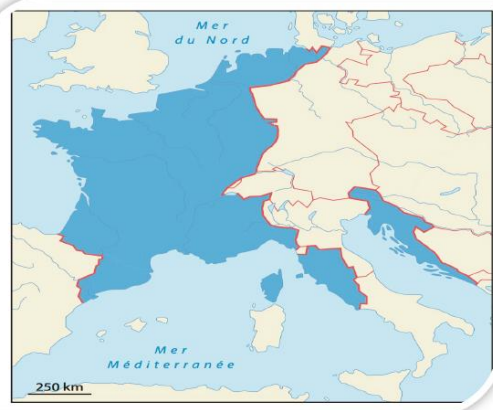
[La Gaule au 1er siècle]



[L'empire de Charlemagne en 814]



[L'empire français en 1815]



France - 2020